

ЗАДАНИЯ
олимпиады
по учебным предметам
«Всемирная история», «История Беларуси»

IX класс

Задание I. ВЫБЕРИТЕ ПРАВИЛЬНЫЙ ВАРИАНТ ОТВЕТА:

1. Полис – это:

- а) центр могущественного государства;
- б) название города в древней Месопотамии;
- в) небольшой город-государство в Греции;
- г) область в Малой Азии.

2. Основателем Франкского государства стал:

- а) Хлодвиг;
- б) Карл Великий;
- в) Юстиниан;
- г) Канут Великий.

3. Летопись «Повесть временных лет» была создана:

- а) Кириллом и Мефодием;
- б) монахом Нестором;
- в) Климентом Охридским;
- г) Кириллом Туровским.

4. Столетняя война (1337 – 1453 гг.) велась между:

- а) Англией и Ирландией;
- б) Англией и Францией;
- в) Англией и Германией;
- г) Англией и Шотландией.

5. Манифест об окончании Отечественной войны был издан Александром I:

- а) в ноябре 1812
- б) декабре 1812 г.
- в) феврале 1813 г.
- г) октябре 1813 г.

6. Формирование идеологии декабристов проходило под влиянием:

- а) общественно-политического и патриотического подъема после войны 1812г.
- б) реакционной политики Священного союза
- в) западноевропейских социалистических идей
- г) антидворянской политики Александра I

7. Автором картины «Наполеон у костра» является:

- а) В. Ванькович
- б) И. Хруцкий.
- в) Я. Дамель
- г) И. Олешкевич

8. Царствование Николая I пришлось на период:

- а) 1820-1850 гг
- б) 1825-1855 гг
- в) 1830-1860 гг.
- г) 1894-1918 г.

9. В 1794г.:

- а) была установлена черта еврейской оседлости;

- б) началась «якобинская диктатура» во Франции;
- в) произошёл второй раздел Речи Посполитой;
- г) началось британское завоевание Индии.

10. Крепостной театр С. Зорича был основан в:

- а) Слуцке;
- б) Ружанах;
- в) Могилёве;
- г) Шклове.

11. Битва при Адуа состоялась в:

- а) 1891г.;
- б) 1895г.;
- в) 1896г.;
- г) 1898г.

12. В первой половине XIX в. промышленность Беларуси была представлена преимущественно:

- а) металлообрабатывающими предприятиями;
- б) стекольными фабриками и заводами;
- в) предприятиями по переработке сельскохозяйственного сырья;
- г) деревообрабатывающими предприятиями.

13. Присоединение униатов к Русской православной церкви произошло в:

- а) 1811г.;
- б) 1820г.;
- в) 1839г.;
- г) 1844г.

14. «Основателем» реформизма в международном рабочем движении был:

- а) Ф.Энгельс;
- б) В. Либкнехт;
- в) Э. Бернштейн
- г) А. Бебель

15. Тайпинское восстание в Китае началось в:

- а) 1848г.;
- б) 1850г.;
- в) 1852г.;
- г) 1854г.

16. По воинскому уставу 1874 г. срок воинской службы для лиц, имевших высшее образование сокращался до:

- а) 3лет.
- б) 1,5года.
- в) 6 месяцев.
- г) 3 месяца.

17. Народный герой Италии, генерал, который боролся за объединение своей страны:

- а) Джолитти;
- б) Гауди;
- в) Мадзини;
- г) Гарибальди.

18. Русско-японская война 1904 – 1905 гг. завершилась:

- а) Лондонским мирным договором;
- б) Берлинским мирным договором;
- в) Парижским мирным договором;
- г) Портсмутским мирным договором.

Задание II. ВПИШИТЕ ПРАВИЛЬНЫЙ ОТВЕТ:

1	Наука, изучающая историю, культуру, традиции, самобытность и общность белорусов	
2	Документы, содержащие описание феодальных владений, размеров крестьянских повинностей в Беларуси, Литве, Украине в XVI-первой половине XIX в.	
3	Политика самодержавия, согласно которой преимущественно мелкая шляхта исключалась из дворянства и переводилась в податное сословие при отсутствии подтверждающего шляхетское происхождение документа	
4	Предприятие, основанное на ручном труде и разделении его на операции	

5	Движение за отмену рабства в США	
6	Произвольное сочетание элементов разнородных стилей в архитектуре и изобразительном искусстве	
7	Христианская церковно-административная единица в пределах определенной территории	
8	Живопись водяными красками по свежей штукатурке	
9	Четырехугольный в плане укрепленный замок с каменными стенами и двумя башнями	
10	Участники Нидерландской буржуазной революции, которые воевали против испанского правления	

Задание III. СООТНЕСИТЕ:

1) художников и их произведения:

			
А	Б	В	Г
1. В.Ванькович;	2. К.Русецкий;	3. И.Олешкевич;	4. Н.Силиванович

1 –	2 –	3 –	4 –
-----	-----	-----	-----

2) авторов с названиями их произведений:

1. А.Мицкевич	а) «Заиграй, заиграй, хлопче малый...»;
2. Я.Барщевский	б) «Селянка» («Идиллия»);
3. В.Дунин-Марцинкевич	в) «Дяды»;
4. П.Баграм	г) «Шляхтич Завальня...».

1 –	2 –	3 –	4 –
-----	-----	-----	-----

3) писателей и поэтов с их иллюстративными изображениями:

			
---	---	--	---

А	Б	В	Г
----------	----------	----------	----------

1. Я.Барщевский; 2. А.Мицкевич; 3. В.Дунин-Марцинкевич; 4. Ф.Богушевич.

1 –	2 –	3 –	4 –

4). даты и события истории Российской империи:

1) 1904 г.	А) Роспуск I Государственной думы
2) 1905 г.	Б) «Кровавое воскресенье»
3) 1906 г.	В) «Третьеиюньский государственный переворот»
4) 1907 г.	Г) Оборона Порт-Артура

1 –	2 –	3 –	4 –
------------	------------	------------	------------

Задание IV. ОПРЕДЕЛИТЕ, К КАКИМ СТРАНАМ ОТНОСЯТСЯ УКАЗАННЫЕ ЯВЛЕНИЯ:

1. Гомстед-акт	
2.Славянофильство	
3.Декларация прав человека и гражданина	
4.Синьхайская революция	
5.Открытие Антарктиды	
6.Война Алой и Белой розы	
7.Государство маратхов	
8.Доктрина Монро	

Задание V. РАСПРЕДЕЛИТЕ ПЕРЕЧИСЛЕННЫЕ НИЖЕ СОБЫТИЯ В СООТВЕТСТВУЮЩИЕ КОЛОНКИ ТАБЛИЦЫ:

1. Революция 1905 – 1907 гг.	2. Февральская революция 1917г.

- А) расстрел мирной демонстрации в Петербурге 9 января;
- Б) восстание на броненосце «Потёмкин»;
- В) подписание императором Николаем II акта об отречении от престола в пользу брата Михаила;
- Г) всеобщая политическая стачка;
- Д) обнародование царского Манифеста 17 октября;
- Е) декабрьское вооружённое восстание в Москве;
- Ж) созыв I Государственной Думы

3) установление двоевластия.

Задание VI. РАССТАВЬТЕ В ПРАВИЛЬНОЙ ПОСЛЕДОВАТЕЛЬНОСТИ:

1. Создание тайных организаций и обществ в Беларуси:

- а) Общество филаретов.
- б) «Демократическое общество»
- в) «Общество военных друзей»
- г) Общество филоматов.

1-	2-	3-	4-
----	----	----	----

2. События в сфере образования на территории Беларуси в первой половине XIX в.:

- а) Создание Горы-Горецкого земледельческого института;
- б) Закрытие Виленского университета;
- в) Открытие ланкастерской школы в России.

1 –	2 –	3 –
-----	-----	-----

3. События накануне и в период восстания 1863-1864гг.:

- а) Создание Литовского провинциального комитета;
- б) Приход «белых» к руководству восстанием в Беларуси и Литве;
- в) Создание Центрального национального комитета;
- г) Прибытие в Вильно М. Н. Муравьева для подавления восстания.

1 –	2 –	3 –	4 –
-----	-----	-----	-----

4. События второй половины XIX века в истории Европы

- а) раскол «Земли и воли»;
- Б) основание I Интернационала;
- В) Парижская коммуна;
- Г) отмена крепостного права в России

1 -	2 -	3 -	4 -
-----	-----	-----	-----

5. События войны 1812 г.:

- а) Объединение 1-й и 2-й российских армий под Смоленском;
- б) Переправа французских войск через Березину у деревни Студёнка;
- в) Создание Временного правительства ВКЛ;
- г) Бой у деревни Салтановка.

1 –	2 –	3 –	4 –
-----	-----	-----	-----









Задание VII. ОПРЕДЕЛИТЕ, СОВРЕМЕННИКОВ ИСТОРИЧЕСКИХ ДЕЯТЕЛЕЙ:

1. Ян Гус	3. Оливер Кромвель
а) Франциск Скорина	а) Богдан Хмельницкий
б) Христофор Колумб	б) Франсиско Писарро
в) Витовт	в) Стефан Баторий

2. Антоний Тизенгауз	4. Всеслав Чародей
а) Пётр I	а) Оттон I Великий
б) Людовик XVI	б) Андрей Боголюбский
в) Фридрих Вильгельм IV	в) Вильгельм I Завоеватель

1 –	2 –	3 –	4 –
-----	-----	-----	-----

Задание VIII. РАССМОТРИТЕ ИЗОБРАЖЕНИЯ И УКАЖИТЕ ИМЕНА ИСТОРИЧЕСКИХ ЛИЧНОСТЕЙ:

			
1.	2.	3.	4.
			
5.	6.	7.	8.

			
9.	10.	11.	12.

Задание IX. КОМУ ПРИНАДЛЕЖАТ СЛОВА:

- А) «Свет – это воз сена, и каждый старается урвать от его сколько сможет».
- Б) «После нас хоть потоп! На мой век хватит!».
- В) «Человек может сделать путь великим. Не путь делает великим человека».
- Г) «...с одного только того, что было выполнено во время (первого) путешествия, их высочество могут убедиться, что я дам им столько золота, сколько им необходимо, когда их высочество окажут мне самую малую помощь; кроме того, острых приправ и хлопка – сколько пожелают их высочества приказать...».
- Д) «Знание – это сила».
- Е) «Когда б Бога не было, то его нужно было бы выдумать».
- Ж) «Ослон и ученых – в середину!».

Задание X. ВЫЧЕРКНИТЕ ЛИШНЕЕ:

- К числу повинностей крестьян в средние века относились: акцизные сборы, оброк, барщина, «куница».
- В войне Алой и Белой розы приняли участие знатные династии: Валуа, Йорки, Ланкастеры, Тюдоры.
- Тимур во 2 половине XIV в. подчинил: Среднюю Азию, Китай, Иран, Малую Азию.
- К числу мировых религий относятся: христианство, буддизм, ислам, индуизм.
- В состав Рады великого князя литовского входили: воевода, каштелян, войт, подскарбий.

Задание XI. ЯВЛЯЕТСЯ ЛИ ВЕРНЫМ УТВЕРЖДЕНИЕ? ДА или НЕТ.

- Первым на белорусских землях памятником в стиле барокко стал костел Божьего Тела в Несвиже.
- Первые фабрики на белорусских землях принадлежали Радивилам.
- Восстание 1794 г. на землях ВКЛ возглавил Якуб Ясинский.

4. Поводом к началу I Мировой войны стало убийство в Сараево наследника австро-венгерского престола Франца-Фердинанда.
5. Николай I в русской истории получил прозвище Реформатор.
6. По решению ЮНЕСКО 2002 год был официально объявлен годом Игнатия Домейко.
7. К.Калиновский в восстании 1863 г. возглавлял «красных»-правых.

Задание XII. НАПИШИТЕ, КАКОЙ ЦИФРОЙ НА КАРТЕ ОБОЗНАЧЕНО ТО ИЛИ ИНОЕ ГОСУДАРСТВО XIX в.

1.	Область, в которой впервые стала использоваться такая форма борьбы, как бойкот, выразившийся, в частности, в отказе крестьян платить арендную плату, отмечена на карте цифрой:
2.	Напишите, какими цифрами на карте обозначены страны, которые к последней трети XIX в. сумевшие преодолеть раздробленность своих земель.
3.	Государство, представлявшее собой в конце XIX в. объединение 22 монархий и трех вольных городов, отмечено на карте цифрой:
4.	Напишите, какими цифрами на карте обозначены страны, где произошли революции 1848-1849 гг.
5.	Напишите, какими цифрами на карте обозначены страны, объявившие в 1912 году войну Турции.
6.	Напишите, какой цифрой на карте обозначена страна, которая накануне Первой мировой войны входила в Тройственный союз, а в годы войны перешла на сторону Антанты.
7.	Государство, которое в Новое время сменило три республики и две империи.
8.	Государство, которое в 1908 году объявила себя царством и провозгласила независимость от Турции.
9.	Государство, в котором в 1881г. узкой группой заговорщиков был убит верховный правитель, отмечено на карте цифрой: